



Naložba v vašo prihodnost
OPERACIJO DELNO FINANCIRA EVROPSKA UNIJA
Evropski socialni sklad




MATEMATIKA Z


Pripravila Andreja Golouh
OŠ Antona Aškercia Rimske Toplice

Naslov prispevka: http://www.uciteljska.net/ucit_search_podrobnosti.php?id=4572






- V SMRKETINI HIŠKI JE BILO NA HODNIKU 10 BANAN, V KUHINJI PA 8. KOLIKO BANAN JE IMELA?



10 + 8 = 18
IMELA JE 18 BANAN.



PREŠTEJ KOLIKO HRUŠK JE PADLO Z DREVESA. 10




ČEZ ENO URO SO Z DREVESA PADLE ŠE TRI BOLJ ZRELE HRUŠKE.
KOLIKO HRUŠK JE LEŽALO NA TLEH?

$$10 + 3 = 13$$

NA TLEH JE LEŽALO 13 HRUŠK.

KOLIKO JABOLK VIDIŠ NA TLEH? 13

KOLIKO JABOLK JE NA MIZI? 3




KOLIKO JE VSEH JABOLK?

$$13 + 3 = 16$$

VSEH JABOLK JE 16.

KOLIKO VRTNIC RASTE NA NAŠEM VRTU? 13



SMRKETA JE 3 VRTNICE UTRGALA.

KOLIKO VRTNIC JE OSTALO NA VRTU?

$$13 - 3 = 10$$

NA VRTU JE OSTALO 10 VRTNIC.



ŽABICE



KOLIKOKRAT MORA POSKOČITI ŽABICA, DA PRIDE DO **PETEGA** KAMENČKA?

$$1 + \underline{4} = 5$$




2

3



4

5




KOLIKOKRAT MORA POSKOČITI ŽABICA, DA PRIDE DO **OSMEGA** KAMENČKA?

$$3 + \underline{5} = 8$$



1 2 3 4 5 6 7 8 9 10 11 12 13 14 15 16 17 18 19 20







BLUEBUDDIES © Pinyon 1992

